

Proposition de correction

Exercice 1

Q1

8
5
2
4

Q2.1

```
def hauteur_pile(P):  
    Q = creer_pile_vide()  
    n = 0  
    while not(est_vide(P)):  
        n += 1  
        x = depiler (P)  
        empiler(Q, x)  
    while not(est_vide(Q)):  
        x = depiler (Q)  
        empiler(P, x)  
    return n
```

Q2.2

```
def max_pile(P : object, i : int) -> int:  
    """ renvoie la position j de l'élément maximum parmi les i derniers éléments empilés de P.  
    Le sommet de la pile est 1. P conserve son état d'origine. """  
    j = 0  
    if not est_vide(P):  
        Q = creer_pile_vide()  
        max = depiler (P)  
        empiler(Q, max)  
        j, n = 1, 1  
        i -= 1  
    while not est_vide(P) and i > 0:  
        n += 1  
        x = depiler (P)  
        empiler(Q, x)  
        if x > max:  
            max = x
```

```

    j = n
    i -= 1
    while not est_vide(Q):
        empiler(P, depiler(Q))
    return j

```

Q3

```

def retourner(P : object, j : int):
    """ inverse l'ordre des j derniers éléments empilés de P """
    Q = creer_pile_vide()
    while not est_vide(P) and j > 0:
        empiler(Q, depiler(P))
        j -= 1
    tmp = creer_pile_vide()
    while not est_vide(Q): # inverse l'empilement
        empiler(tmp, depiler(Q))
    while not est_vide(tmp):
        empiler(P, depiler(tmp))

```

Q4

```

def tri_crepes(P : object):
    """ trie la pile P selon la méthode du tri crêpes """
    n = hauteur_pile(P)
    for i in range(n, 1, -1):
        # On recherche la plus grande crêpe.
        j = max_pile(P, i)
        # On retourne la pile à partir de cette crêpe pour mettre cette plus grande crêpe en haut.
        retourner(P, j)
        # On retourne cette partie pour que la plus grande crêpe se retrouve tout en bas.
        retourner(P, i)

```

Exercice 2

Q1.1

2

Q1.2

3 (droite) + 2 (bas) + 1 (départ) = 6

Q2

0, 0) → (0, 1) → (0, 2) → (0, 3) → (1, 3) → (2, 3) = 11

(0, 0) → (0, 1) → (0, 2) → (1, 2) → (1, 3) → (2, 3) = 10

(0, 0) → (0, 1) → (0, 2) → (1, 2) → (2, 2) → (2, 3) = 14

$(0, 0) \rightarrow (0, 1) \rightarrow (1, 1) \rightarrow (1, 2) \rightarrow (1, 3) \rightarrow (2, 3) = 9$

$(0, 0) \rightarrow (0, 1) \rightarrow (1, 1) \rightarrow (1, 2) \rightarrow (2, 2) \rightarrow (2, 3) = 12$

$(0, 0) \rightarrow (0, 1) \rightarrow (1, 1) \rightarrow (2, 1) \rightarrow (2, 2) \rightarrow (2, 3) = 12$

$(0, 0) \rightarrow (1, 0) \rightarrow (1, 1) \rightarrow (1, 2) \rightarrow (1, 3) \rightarrow (2, 3) = 10$

$(0, 0) \rightarrow (1, 0) \rightarrow (1, 1) \rightarrow (1, 2) \rightarrow (2, 2) \rightarrow (2, 3) = 14$

$(0, 0) \rightarrow (1, 0) \rightarrow (1, 1) \rightarrow (2, 1) \rightarrow (2, 2) \rightarrow (2, 3) = 13$

$(0, 0) \rightarrow (1, 0) \rightarrow (2, 0) \rightarrow (2, 1) \rightarrow (2, 2) \rightarrow (2, 3) = 16$

soit 10 chemins au total

$(0, 0) \rightarrow (1, 0) \rightarrow (2, 0) \rightarrow (2, 1) \rightarrow (2, 2) \rightarrow (2, 3) = 4 + 2 + 3 + 2 + 5 + 1 = 16$

Q3.1

4	5	6	9
6	6	8	10
9	10	15	16

Q3.2

Le déplacement sur la 1ère ligne correspond à $i = 0$ et $0 \leq j \leq 3$.

La somme s'effectue avec la case précédente si elle existe (ie : $j > 0$).

Donc $T'[0][j] = T[0][j] + T'[0][j-1]$ pour $j > 0$

Q4

On cherche le chemin maximum entre 2 chemins possibles qui viennent de la gauche ($j-1$) ou d'en haut ($i-1$).

Q5.1

On ne fait pas appel à la récurrence pour $i = 0$ et $j = 0$. Dans ce cas $T[0][0] = 4$ (cas de base).

Q5.2

```
def somme_max(T : list, i : int, j : int) -> int:
    if i == 0 and j == 0:
        return T[0][0]
    elif i == 0:
        return T[i][j] + somme_max(T, i, j-1)
    elif j == 0:
        return T[i][j] + somme_max(T, i-1, j)
    else:
        return T[i][j] + max(somme_max(T, i-1, j), somme_max(T, i, j-1))
```

Q5.3

`somme_max(T, len(T) - 1, len(T[0]) - 1)`

Exercice 3

Q1

- Taille de l'arbre : nombre de nœuds = 9
- Hauteur de l'arbre : nœud le plus profond depuis la racine = 4

Q2.1

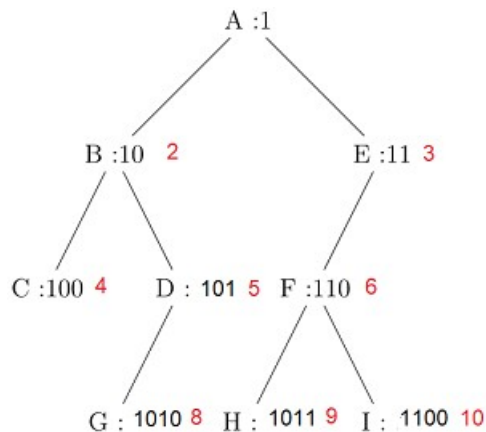
1010

Q2.2

l

Q2.3

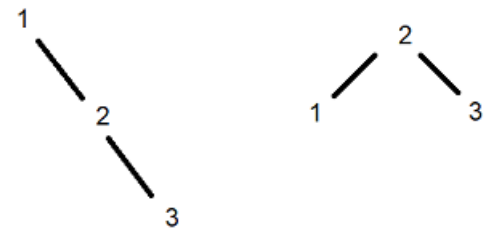
h bits



Q2.4

- Pour un arbre bien formé (complet) : $2^{h-1} - 1 < n \leq 2^h - 1$
- Pour un arbre complètement déséquilibré : $n = h$

Il vient : $h \leq n \leq 2^h - 1$



Q3.1

0	1	2	3	4	5	6	7	8	9	10	11	12	13	14	15
15	A	B	C	D	E	F	G	H	I	J	K	L	M	N	O

Q3.2

E(i/2)

Q4

```
def recherche(abr : list, elt : int) -> bool:
    """ recherche naïve d'un élément dans un abr sous forme de vecteur """
    for i in range(1, len(abr)):
        if elt == abr[i]:
            return True
    return False
```

Complexité O(n)

```
def recherche(abr : list, elt : int) -> bool:
    """ recherche optimisée d'un élément dans un abr sous forme de vecteur """
    i = 1
```

```
while i < len(abr):
    if elt == abr[i]:
        return True
    elif elt < abr[i]:
        i = 2*i
    else:
        i = 2*i + 1
return False
```

Complexité $O(\ln_2 n)$

Exercice 4

Q1.1

Une clef primaire permet de trouver de retrouver systématiquement les attributs d'une relation de façon sûre et unique.

Q1.2

La clef 133310FE (VARCHAR) a été transformée en 133310 (INT).

```
INSERT INTO seconde VALUES(133310, 'anglais', 'espagnol', '', '2A')
```

Q1.3

```
UPDATE seconde SET langue1 = 'allemand' WHERE num_eleve = 156929
```

Q2.1

Affiche tous les attributs num_eleve de la table seconde.

Q2.2

Affiche le nombre d'enregistrements de la table seconde.

Q2.3

```
SELECT COUNT(num_eleve) FROM seconde WHERE langue1 = 'allemand' OR langue2 = 'allemand'
```

Q3.1

La donnée n'a besoin d'être mise à jour qu'une seule fois dans une table.

Une entrée dans la table eleve n'est possible que si l'entrée existe au préalable dans la table seconde.

Q3.2

```
SELECT eleve.nom, eleve.prenom, eleve.datenaissance
FROM eleve, seconde
WHERE eleve.num_eleve = seconde.num_eleve AND seconde.classe = '2A'
```

Q4

Table coordonnees	
Attributs	Types
idcoordonnees	INT (clef primaire)
num_eleve	INT (clef étrangère référence eleve)
adresse	VARCHAR
codepostale	VARCHAR
ville	VARCHAR
email	VARCHAR

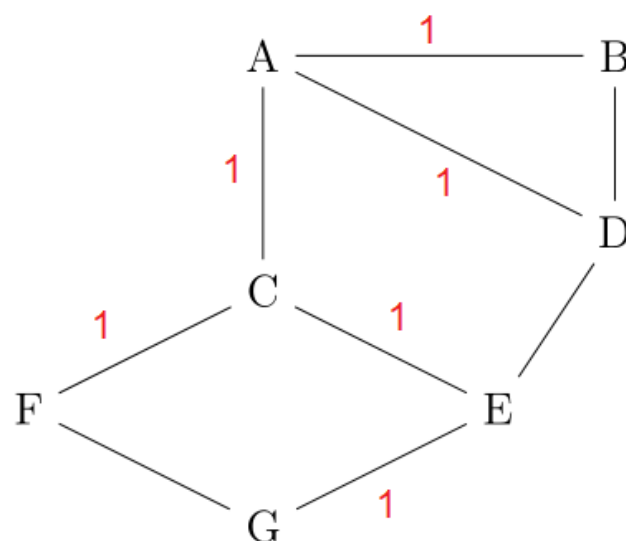
Exercice 5

Q1.1

A → C → E → G

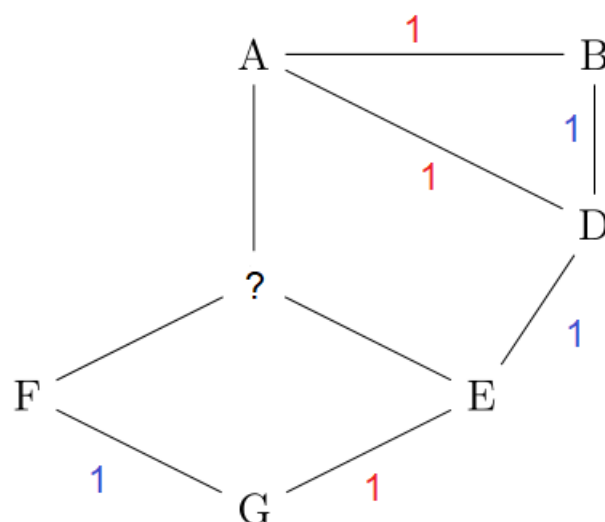
Q1.2

Table de routage du routeur G		
Destination	Routeur suivant	Distance
A	F	3
B	E	3
C	F	2
D	E	2
E	E	1
F	F	1



Q2

Table de routage du routeur A		
Destination	Routeur suivant	Distance
B	B	1
C	?	
D	D	1
E	D	2
F	D	4
G	D	3



Q3.1

$$\text{Coût} = 10^8 / d = 10^8 / (10 \times 10^9) = 10^{-2} = 0,01$$

Q3.2

$$d = 10^8 / 5 = 2 \cdot 10^7 = 20 \cdot 10^6 = 20 \text{ Mb/s}$$

Q4

On utilise l'algorithme de Dijkstra : on choisit le sommet non visité avec la distance la plus faible (le débit le plus élevé), puis on calcule la distance à travers lui à chaque voisin non visité, et on met à jour la distance du voisin si elle est plus petite.

On obtient alors le chemin suivant : $A \rightarrow D \rightarrow E \rightarrow G$